

分薄餅 學分數除法

(整數÷整數)



工作紙一

題1

題2

題3

工作紙二

題1a


題1b

題1c

題2

題3

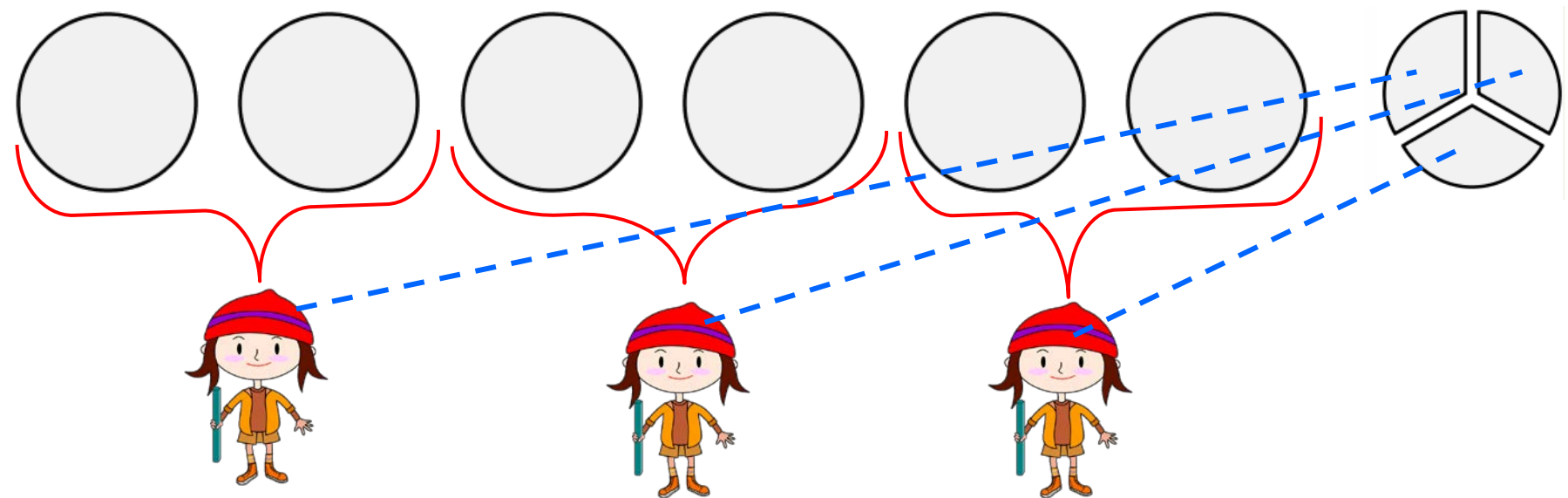
工作紙一（題1）：薄餅6個，均分給3人，每人可分得薄餅多少個？



$$\begin{aligned} \text{每人可得薄餅} &: 6 \div 2 \\ &= 3 \text{ (個)} \end{aligned}$$



工作紙一（題2）：薄餅7個，均分給3人，每人可分得薄餅多少個？

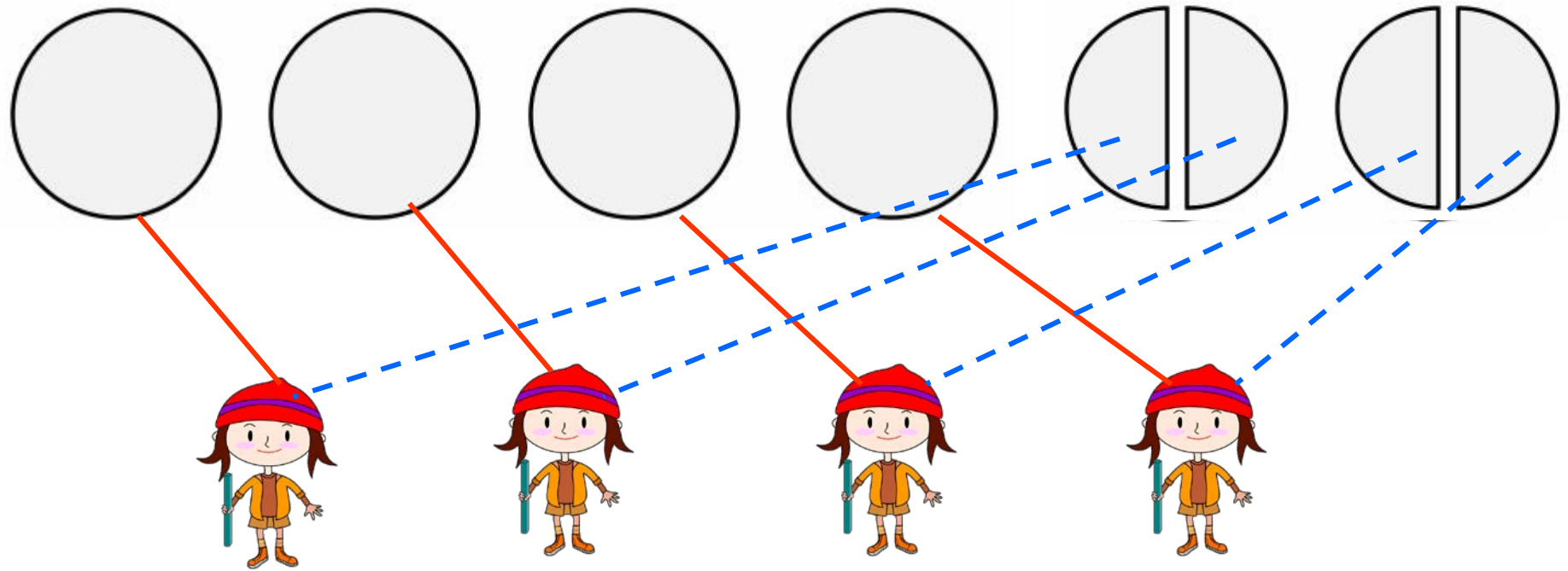


每人可得薄餅： $7 \div 3$

$$= 2\frac{1}{3}(\text{個})$$



工作紙一（題3）：薄餅6個，均分給4人，每人可分得薄餅多少個？

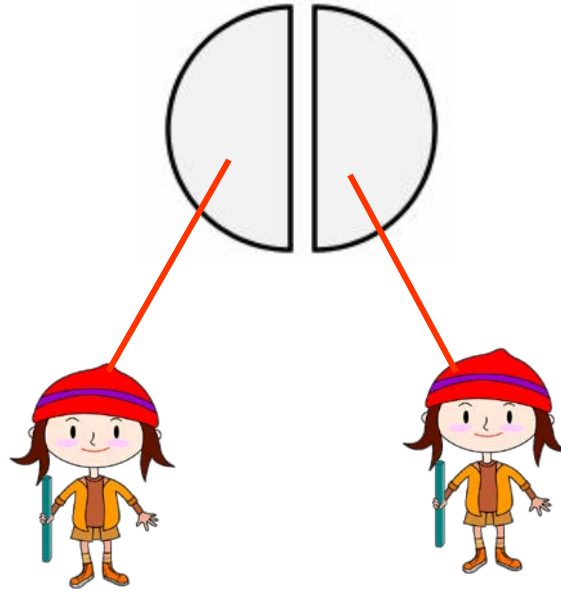


每人可得薄餅： $6 \div 4$

$$= 2\frac{1}{2}(\text{個})$$



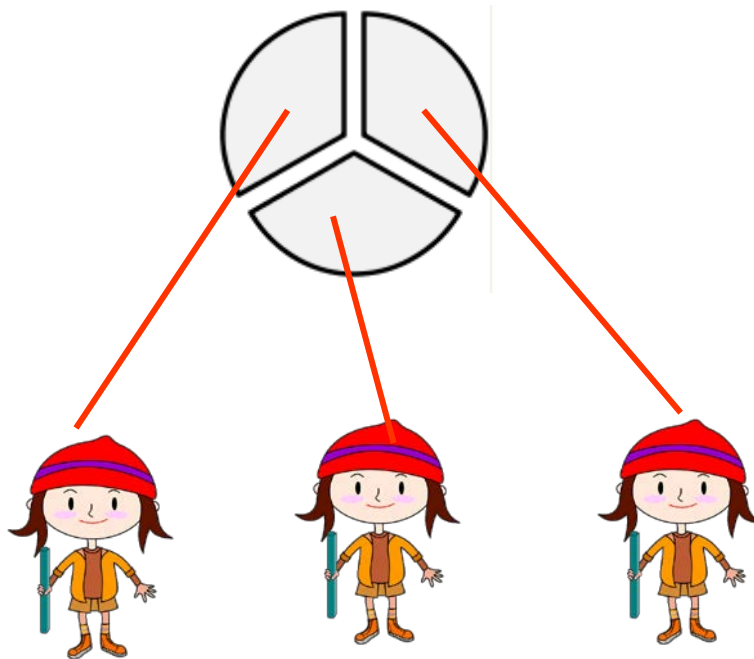
工作紙二（題1a）：薄餅1個，均分給2人，每人可分得薄餅多少個？



$$\begin{aligned} \text{每人可得薄餅} &: 1 \div 2 \\ &= \frac{1}{2} (\text{個}) \end{aligned}$$



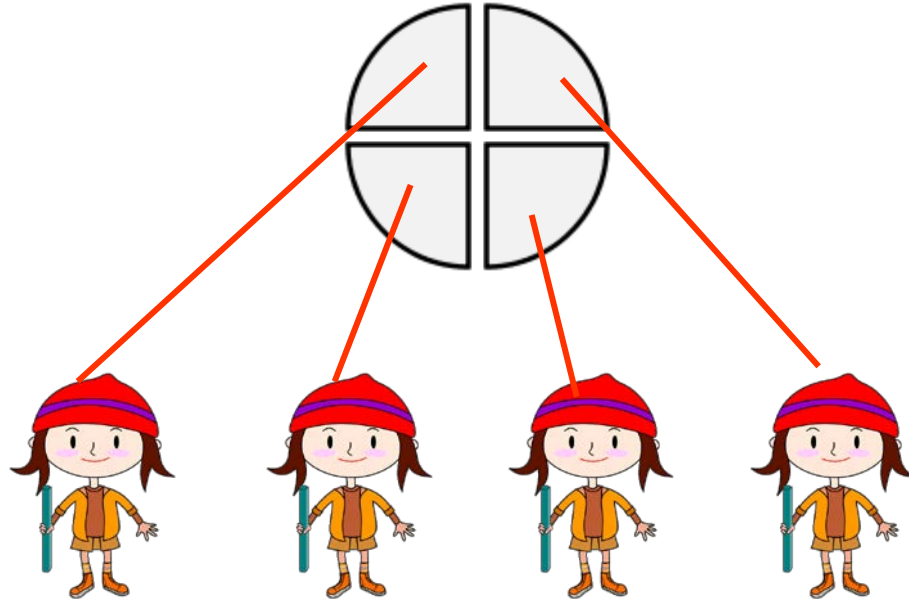
工作紙二（題1b）：薄餅1個，均分給3人，每人可分得薄餅多少個？



$$\begin{aligned}\text{每人可得薄餅} &: 1 \div 3 \\ &= \frac{1}{3} (\text{個})\end{aligned}$$



工作紙二（題1c）：薄餅1個，均分給4人，每人可分得薄餅多少個？





每人可得薄餅： $1 \div 4$

$$= \frac{1}{4} (\text{個})$$




工作紙二（題2）：薄餅2個，均分給3人，每人可分得薄餅多少個？



觀看動態圖像

工作紙二（題3）：薄餅3個，均分給4人，每人可分得薄餅多少個？



觀看動態圖像