

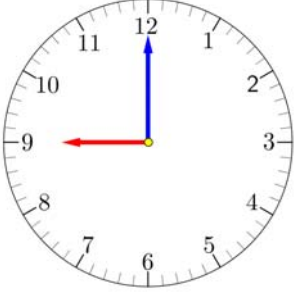


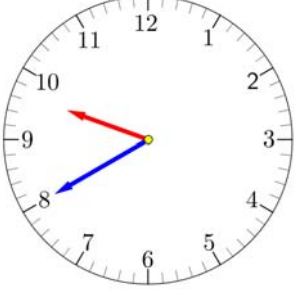
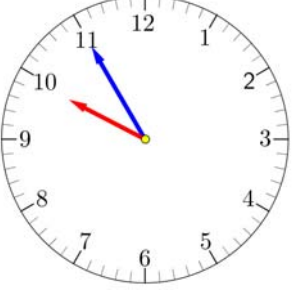


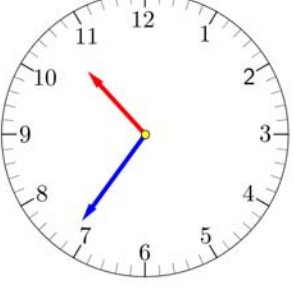
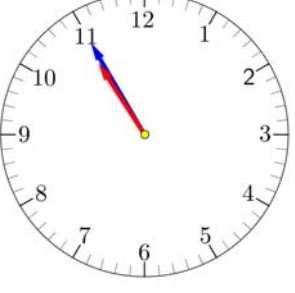
小學二年級 數學科
以「時」和「分」報時

姓名：_____ () 班別：_____ 日期：_____

(一) 時間小資料

分針走了1圈，時針則走了_____大格。
分針走1圈，表示時間過了_____分鐘。
時針1大格，表示時間過了_____小時。

(二) 小心觀察時針和分針的位置，以「時」和「分」報時：

<p>例</p>  <p>9 時正</p>	<p>1.</p>  <p>9 時__分</p>	<p>2.</p>  <p>9 時__分 又讀作 9 時半</p>
<p>3.</p>  <p>__ 時 __ 分</p>	<p>4.</p>  <p>__ 時 __ 分</p>	<p>5.</p>  <p>__ 時 __ 分</p>
<p>6.</p>  <p>__ 時 __ 分</p>	<p>7.</p>  <p>__ 時 __ 分</p>	<p>8.</p>  <p>__ 時 __ 分</p>