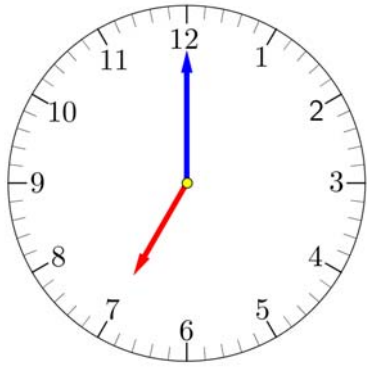


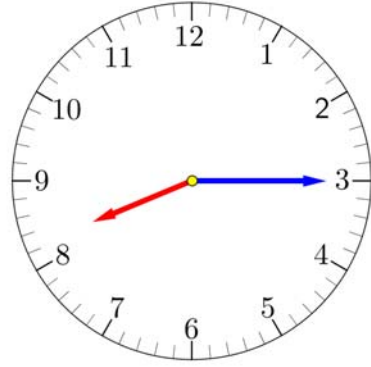
小學二年級 數學科 活動的時間

姓名：\_\_\_\_\_ ( ) 班別：\_\_\_\_\_ 日期：\_\_\_\_\_

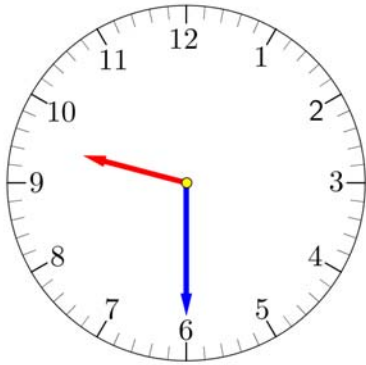
(一) 以下是小明在某星期一的活動時間，你能夠根據鐘面的時間，完成下列各題嗎？



1. 小明在早上\_\_\_\_時正起床。



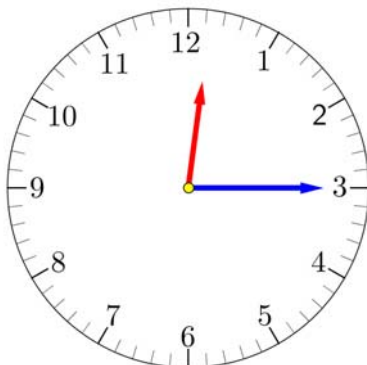
2. 學校的鐘聲在\_\_\_\_時\_\_\_\_分響起，同學們排隊上課室了。



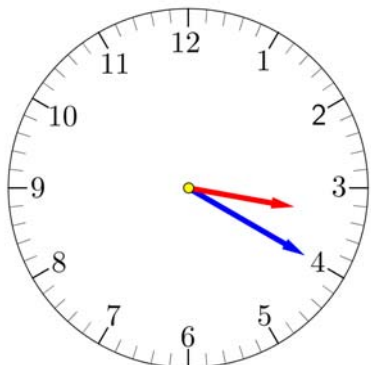
3. 小明最愛上的數學課在\_\_\_\_時\_\_\_\_分開始。



4. 小明在\_\_\_\_時\_\_\_\_分正和同學玩象棋。

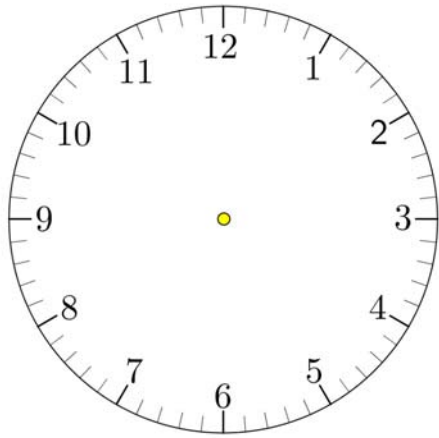


5. 午飯時間在\_\_\_\_時\_\_\_\_分開始，今天的午餐是小明最愛吃的意大利粉。

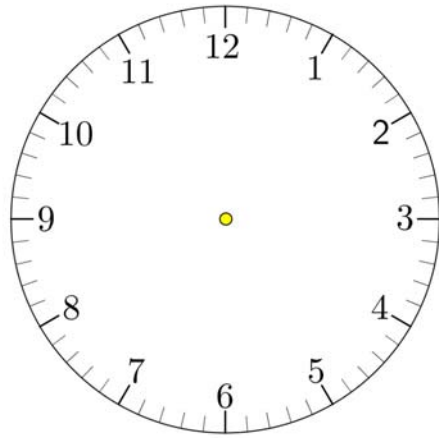


6. 鐘聲在\_\_\_\_時\_\_\_\_分響起，小明放學了！

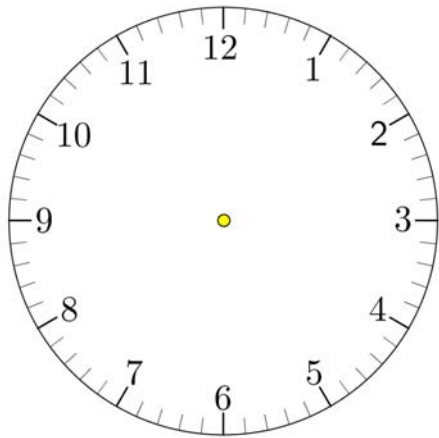
(二) 以下是小明班主任陳老師在某星期一的活動時間，請在她的手錶鐘面上加上時針和分針。



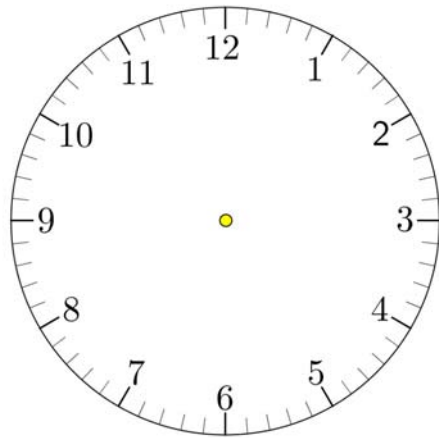
1. 早上，陳老師在 6 時正起床。



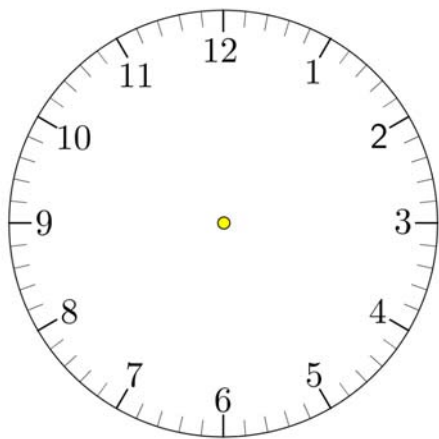
2. 她在 8 時 10 分 到操場接學生上課室。



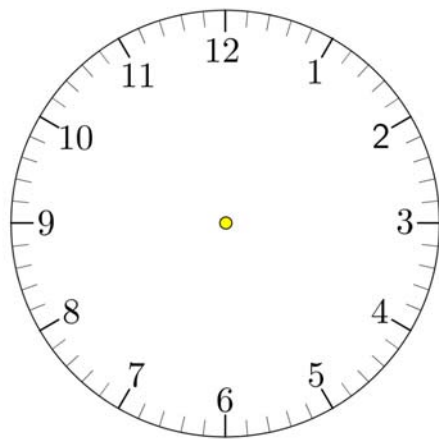
3. 她和幾位老師在 8 時 45 分 正在開會。



4. 她在 10 時 25 分 正在收拾教具，準備下一節的數學課。



5. 她在 12 時 20 分 開始安頓學生吃午飯。



6. 她在下午 5 時 47 分 仍在批改習作。